

Wiskunde - Graad 7

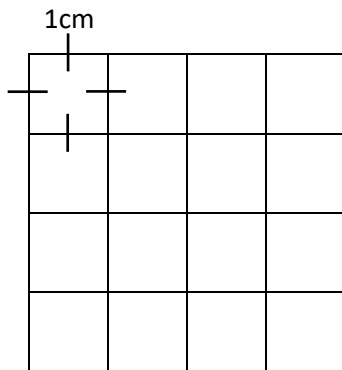
Donderdag, 14 Mei 2020

Aktiwiteit

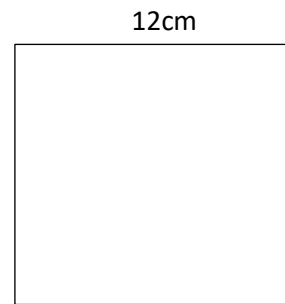
Voltooi nou die volgende opdrag om te sien wat jy verstaan het.

1. Bereken die oppervlakte van die volgende vierkante deur die korrekte formule te gebruik.

(a)

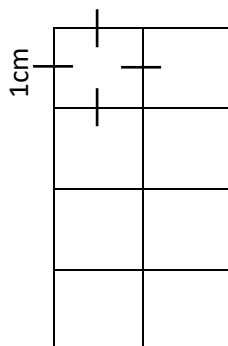


(b)

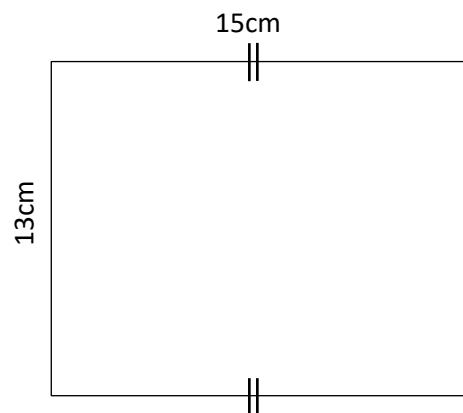


2. Bereken die oppervlakte van die volgende reghoeke deur die korrekte formule te gebruik.

(a)

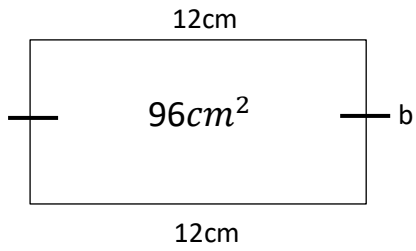


(b)



3. Gebruik inverse bewerkingen om die onbekende sye se lengtes in elkeen van die volgende vierhoeke te bereken.

(a)



(b)

